

**TANGENT & NORMAL**

- यदि वक्रों  $y = 10 - x^2$  तथा  $y = 2 + x^2$  के प्रतिच्छेदन बिन्दुओं पर न्यूनकोण  $\theta$  हो, तो  $|\tan \theta|$  का मान होगा :

(1)  $4/9$  (2)  $7/17$   
 (3)  $8/17$  (4)  $8/15$
- वक्र  $y = x^2 - 5x + 5$  की स्पर्श रेखा, जो रेखा  $2y = 4x + 1$  के समान्तर है, किस बिन्दु से गुजरेगी

(1)  $\left(\frac{1}{4}, \frac{7}{2}\right)$  (2)  $\left(\frac{7}{2}, \frac{1}{4}\right)$   
 (3)  $\left(-\frac{1}{8}, 7\right)$  (4)  $\left(\frac{1}{8}, -7\right)$
- एक हेलीकॉप्टर समीकरण  $y - x^{3/2} = 7, (x \geq 0)$  द्वारा प्रदर्शित वक्र के अनुदिश उड़ान भरता है। एक सैनिक जो बिन्दु  $\left(\frac{1}{2}, 7\right)$  पर स्थित है हेलीकॉप्टर को तब गिराना चाहता है जब वह उसके निकटतम हो तब यह न्यूनतम दूर होगी :

(1)  $\frac{1}{2}$  (2)  $\frac{1}{3}\sqrt{\frac{7}{3}}$  (3)  $\frac{1}{6}\sqrt{\frac{7}{3}}$  (4)  $\frac{\sqrt{5}}{6}$
- माना S, x के उन सभी मानों का समुच्चय है, जिन पर वक्र  $y = f(x) = x^3 - x^2 - 2x$  के बिंदु (x, y) पर खींची गई स्पर्श रेखा बिंदुओं  $(1, f(1))$  तथा  $(-1, f(-1))$  को मिलाने वाले रेखाखण्ड के समांतर है, तो S बराबर है :

(1)  $\left\{-\frac{1}{3}, -1\right\}$  (2)  $\left\{\frac{1}{3}, -1\right\}$   
 (3)  $\left\{-\frac{1}{3}, 1\right\}$  (4)  $\left\{\frac{1}{3}, 1\right\}$

- यदि वक्र  $y = x^3 + ax - b$  के बिंदु  $(1, -5)$  पर खींची गई स्पर्शरेखा, रेखा  $-x + y + 4 = 0$  पर लंबवत है, तो निम्न में से कौनसा एक बिंदु, वक्र पर स्थित है ?

(1)  $(-2, 2)$  (2)  $(2, -2)$   
 (3)  $(2, -1)$  (4)  $(-2, 1)$
- एक पानी की टंकी उल्टे लंब वृत्तीय शंकु के आकार की है, जिसका अर्ध-शीर्ष कोण  $\tan^{-1}\left(\frac{1}{2}\right)$  है। पानी 5 घन मीटर प्रति मिनट की समान दर से डाला जाता है। तो टंकी में पानी की गहराई 10m होने पर वह दर (मी./मि.में), जिस पर पानी की सतह बढ़ रही है, है :-

(1)  $2/\pi$  (2)  $1/5\pi$  (3)  $1/10\pi$  (4)  $1/15\pi$
- 10 सेमी त्रिज्या की लोहे की एक गोलाकार गेंद के चारों ओर समान मोटाई की बर्फ की तह चढ़ाई गई है, जो 50 घन सेमी/मिनट की दर से पिघल रही है। जब बर्फ की मोटाई 5 सेमी है, तब बर्फ की मोटाई के घटने की दर (सेमी/मिनट में) है :

(1)  $\frac{1}{9\pi}$  (2)  $\frac{5}{6\pi}$  (3)  $\frac{1}{18\pi}$  (4)  $\frac{1}{36\pi}$
- यदि वक्र  $y = \frac{x}{x^2 - 3}, x \in \mathbb{R}, (x \neq \pm\sqrt{3})$  के एक बिंदु  $(\alpha, \beta) \neq (0, 0)$  पर खींची गई स्पर्श रेखा, रेखा  $2x + 6y - 11 = 0$  के समांतर है, तो :

(1)  $|6\alpha + 2\beta| = 19$  (2)  $|2\alpha + 6\beta| = 11$   
 (3)  $|6\alpha + 2\beta| = 9$  (4)  $|2\alpha + 6\beta| = 19$

## SOLUTION

1. **Ans. (4)**

Point of intersection is P(2,6).

$$\text{Also, } m_1 = \left( \frac{dy}{dx} \right)_{P(2,6)} = -2x = -4$$

$$m_2 = \left( \frac{dy}{dx} \right)_{P(2,6)} = 2x = 4$$

$$\therefore \tan \theta = \left| \frac{m_1 - m_2}{1 + m_1 m_2} \right| = \frac{8}{15}$$

2. **Ans (4)**

$$y = x^2 - 5x + 5$$

$$\frac{dy}{dx} = 2x - 5 = 2 \Rightarrow x = \frac{7}{2}$$

$$\text{at } x = \frac{7}{2}, y = \frac{-1}{4}$$

$$\text{Equation of tangent at } \left( \frac{7}{2}, \frac{-1}{4} \right) \text{ is } 2x - y - \frac{29}{4} = 0$$

Now check options

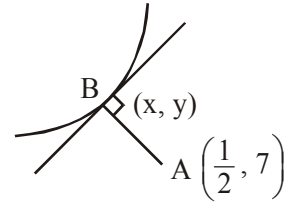
$$x = \frac{1}{8}, y = -7$$

3. **Ans. (3)**

$$y - x^{3/2} = 7 \quad (x \geq 0)$$

$$\frac{dy}{dx} = \frac{3}{2}x^{1/2}$$

$$\left( \frac{3}{2}\sqrt{x} \right) \left( \frac{7-y}{\frac{1}{2}-x} \right) = -1$$



$$\left( \frac{3}{2}\sqrt{x} \right) \left( \frac{-x^{3/2}}{\frac{1}{2}-x} \right) = -1$$

$$\frac{3}{2} \cdot x^2 = \frac{1}{2} - x$$

$$3x^2 = 1 - 2x$$

$$3x^2 + 2x - 1 = 0$$

$$3x^2 + 3x - x - 1 = 0$$

$$(x+1)(3x-1) = 0$$

$$\therefore x = -1 \text{ (rejected)}$$

$$x = \frac{1}{3}$$

$$y = 7 + x^{3/2} = 7 + \left( \frac{1}{3} \right)^{3/2}$$

$$l_{AB} = \sqrt{\left( \frac{1}{2} - \frac{1}{3} \right)^2 + \left( \frac{1}{3} \right)^3} = \sqrt{\frac{1}{36} + \frac{1}{27}}$$

$$= \sqrt{\frac{3+4}{9 \times 12}}$$

$$= \sqrt{\frac{7}{108}} = \frac{1}{6} \sqrt{\frac{7}{3}}$$

Option (3)

4. Official Ans. by NTA (3)

Sol.  $f(1) = 1 - 1 - 2 = -2$   
 $f(-1) = -1 - 1 + 2 = 0$   
 $m = \frac{f(1) - f(-1)}{1 - (-1)} = \frac{-2 - 0}{2} = -1$   
 $\frac{dy}{dx} = 3x^2 - 2x - 2$   
 $3x^2 - 2x - 2 = -1$   
 $\Rightarrow 3x^2 - 2x - 1 = 0$   
 $\Rightarrow (x - 1)(3x + 1) = 0$   
 $\Rightarrow x = 1, -\frac{1}{3}$

5. Official Ans. by NTA (2)

Sol.  $y = x^3 + ax - b$   
 $(1, -5)$  lies on the curve  
 $\Rightarrow -5 = 1 + a - b \Rightarrow a - b = -6 \dots (i)$   
 Also,  $y' = 3x^2 + a$   
 $y'_{(1, -5)} = 3 + a$  (slope of tangent)  
 $\therefore$  this tangent is  $\perp$  to  $-x + y + 4 = 0$   
 $\Rightarrow (3 + a)(1) = -1$   
 $\Rightarrow a = -4 \dots (ii)$   
 By (i) and (ii) :  $a = -4, b = 2$   
 $\therefore y = x^3 - 4x - 2$   
 $(2, -2)$  lies on this curve.

6. Official Ans. by NTA (2)

Sol.  $\tan \theta = \frac{1}{2} = \frac{r}{h}$

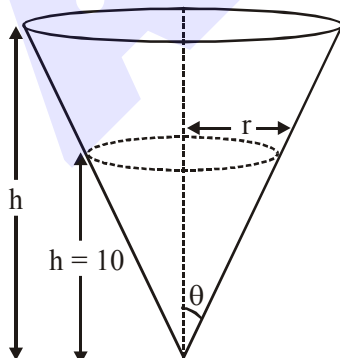
$r = \frac{h}{2}$

$V = \frac{1}{3} \pi r^2 h$

$V = \frac{1}{3} \pi \cdot \frac{h^3}{4}$

$\frac{dV}{dt} = \frac{\pi}{12} (3h)^2 \left( \frac{dh}{dt} \right)$

$5 = \frac{\pi}{4} \cdot (100) \frac{dh}{dt} \Rightarrow \frac{dh}{dt} = \frac{1}{5\pi}$



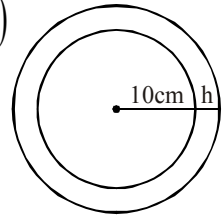
7. Official Ans. by NTA (3)

Sol.  $V = \frac{4}{3} \pi ((10+h)^3 - 10^3)$

$\frac{dV}{dt} = 4\pi (10+h)^2 \frac{dh}{dt}$

$-50 = 4\pi (10+5)^2 \frac{dh}{dt}$

$\Rightarrow \frac{dh}{dt} = -\frac{1 \text{ cm}}{18 \text{ min}}$



8. Official Ans. by NTA (1)

Sol.  $\left. \frac{dy}{dx} \right|_{(\alpha, \beta)} = \frac{-\alpha^2 - 3}{(\alpha^2 - 3)^2}$

Given that :

$\frac{-\alpha^2 - 3}{(\alpha^2 - 3)^2} = -\frac{1}{3}$

$\Rightarrow \alpha = 0, \pm 3 \quad (\alpha \neq 0)$

$\Rightarrow \beta = \pm \frac{1}{2} \quad (\beta \neq 0)$

$6\alpha + 2\beta = 19$